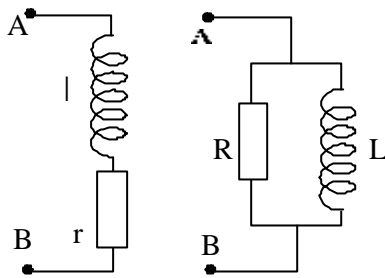


4.1 – Équivalences série parallèle



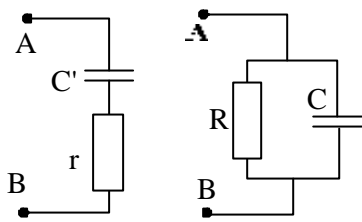
Montrer qu'en régime sinusoïdal, ces deux circuits sont équivalents.

Exprimer L en fonction de l et de $Q = l\omega/r$ puis R en fonction de r et de Q .

Application numérique :

$l = 200 \text{ mH}$; $r = 10 \Omega$; $\omega = 10^3 \text{ Rd/s}$.

4.2 – Équivalences série parallèle



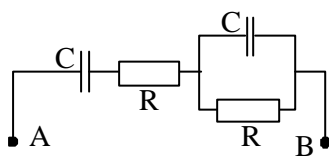
Montrer qu'en régime sinusoïdal, ces deux circuits sont équivalents.

Exprimer C' et r en fonction de C et R .

Application numérique :

$C = 1 \mu\text{F}$; $R = 10^9 \Omega$; $\omega = 10^3 \text{ Rd/s}$.

4.3 – Diagramme d'impédance

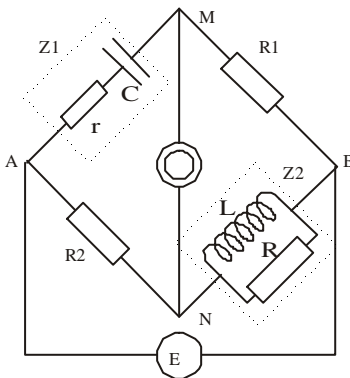


Le circuit est alimenté par une tension sinusoïdale. Calculer son impédance complexe $Z = X + jY$.

Donner l'allure des courbes $X(\omega)$ et $Y(\omega)$.

Le vecteur OP est l'image de Z . Dans le plan complexe, tracer le lieu du point P quand ω varie.

4.4 – Pont de Hay



Le pont est alimenté par une tension sinusoïdale. Établir la relation qui existe entre les valeurs R_1 , R_2 , Z_1 et Z_2 à l'équilibre du pont. Z_2 est une inductance inconnue que l'on peut modéliser par une inductance pure L en parallèle avec une résistance pure R .

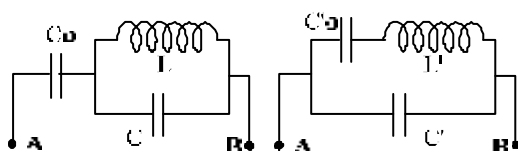
Z_1 est constituée par une résistance r en série avec un condensateur de capacité C . Déterminer L et R .

AN : $R_1 = 0,5 \text{ k}\Omega$, $R_2 = 1 \text{ k}\Omega$, $r = 10 \Omega$, $C = 0,1 \mu\text{F}$

4.5 – Pont de Maxwell

On reprend le montage ci-contre mais cette fois Z_1 est formée par une inductance L en série avec une résistance ρ et Z_2 par un condensateur C en parallèle avec une résistance L . Le pont est à l'équilibre si $R_1 = R_2 = 1 \text{ k}\Omega$, $r = 1 \text{ M}\Omega$, $C = 1 \mu\text{F}$. En déduire L et ρ .

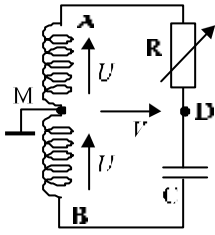
4.6 – Modèles d'un quartz oscillateur



En régime sinusoïdal, déterminer l'impédance complexe des deux circuits. Déterminer les pulsations ω_R et ω_A pour lesquelles le module de l'impédance est nul ou infini.

Montrer l'équivalence des deux circuits en exprimant C'_0 , C' et L' en fonction de C_0 , C , et L .

4.7 – Circuit déphaseur passif



Le point milieu M du secondaire d'un transformateur est relié à la masse. Les tensions entre A et M d'une part et B et M d'autre part sont donc opposées. Montrer que si : $U = E \cdot \sin(\omega t)$, on a :

$$V = F \cdot \sin(\omega t - \varphi).$$

Exprimer V et φ en fonction de E, R, C et ω .

Comment varie φ quand R varie entre 0 et $50 \text{ k}\Omega$, si $C = 5 \mu\text{F}$ et $\omega = 100\pi \text{ Rd/s}$.

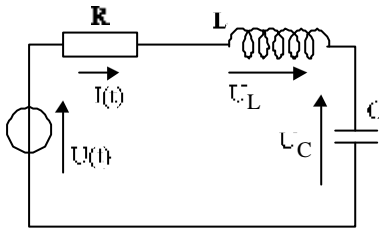
4.8 – Circuit RLC série

On considère un circuit RLC série alimenté par une tension sinusoïdale $u(t) = U \cdot \cos \omega t$. On recherche la valeur du courant $i(t) = I \cdot \cos(\omega t - \varphi)$

1) Déterminer l'impédance complexe Z du circuit.

Poser : $\omega_0^2 = \frac{1}{LC}$; $Q = \frac{L\omega_0}{R}$; $x = \frac{\omega}{\omega_0}$ et écrire Z en fonction de Q et x.

2) En déduire I et φ . Tracer les courbes $I(x)$ et $\varphi(x)$ pour $Q = 0,2; 1; 5; 10$.



3) Déterminer les valeurs de U_L et U_C en fonction de Q et de x.

Montrer qu'il existe une valeur Q_m de Q telle que si $Q < Q_m$, les tensions U_L et U_C ne présentent plus de maxima.

4) Tracer sur un même graphe les courbes $H(x) = U_L / U$ et $G(x) = U_C / U$

[Solutions ↗](#)

[Retour au menu ↗](#)